

第四单元自测卷

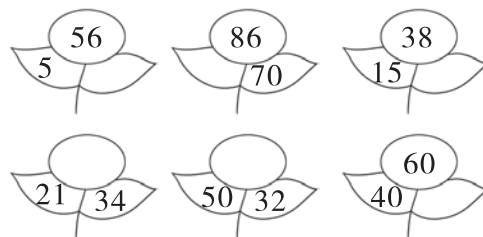
(时间:40 分钟 满分:100 分)

一、填一填。(33 分)

- 26 与 13 两数的和是(),差是()。
- 48 比 35 多(),14 比 37 少()。
- 20 添上()就和 45 一样多。
- 两个数都是 50,它们的和是(),差是()。
- △△△△△△△△△△△△△
○○○○○○○○○
△比○多()个,○比△少()个,从△里拿走()个就跟○一样多,从△里拿()个摆到○里,△就跟○一样多。
- 今晚的数学作业有 10 道题,英英已经做了 6 题,她再从第()题做起。
- 在○里填“>”“<”或“=”。

$$\begin{array}{ll} 45-3 \bigcirc 45-30 & 56+20 \bigcirc 80 \\ 35+20 \bigcirc 25+30 & 60 \bigcirc 66-5 \\ 52+4 \bigcirc 52+40 & 3+34 \bigcirc 34-3 \\ 35-15 \bigcirc 35-20 & 56-15 \bigcirc 45-15 \end{array}$$

8. 找规律填数。



9. 在□里填数。

$$\begin{array}{ll} \square + 20 = 53 & 68 - \square = 35 \\ \square + 3 = 6 + \square & \square - 24 = 52 \\ 24 = 56 - \square & 53 + \square = 55 + 4 \end{array}$$

二、选一选。(10 分)

- 有 23 个苹果,34 个梨,()?
()。
- ①橘子有多少个?
②苹果比梨多多少个?
③苹果比梨少多少个?
- 下面各算式中,得数比 50 大的是()。
①35+2 ②24+20 ③65-12
- 21+()<55,()里可以填几?
①33 ②34 ③35
- 小英上车了,看到车上有 26 人,现在车上有()人。

家长签字:


教师评语:

①25 ②26 ③27

5. 下面算式的得数是四十多的是()。

①65-20 ②32+21 ③65-2

三、蜗牛(wō)牛回家。(连一连)(4 分)



四、算一算。(共 23 分)

1. 直接写出得数。(5 分)

| | |
|----------|----------|
| 50+30= | 20+40= |
| 52-20= | 5+40-30= |
| 36-4= | 33+40= |
| 55-30-3= | 12+24= |
| 23+21= | 58-20-6= |

2. 森林医生。(对的画“√”,错的画“×”,并改正)(6 分)

$$\begin{array}{r} 57 \\ -32 \\ \hline 89 \end{array}$$

$$\begin{array}{r} 46 \\ -2 \\ \hline 26 \end{array}$$

$$\begin{array}{r} 35 \\ 24 \\ \hline 11 \end{array}$$

| | | |
|--|--|--|
| | | |
|--|--|--|

3. 列竖式计算。(12 分)

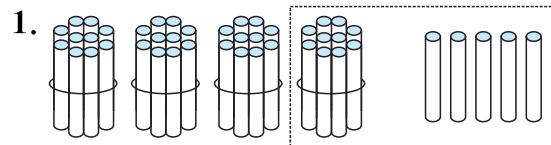
$34+25=$

$46-21=$

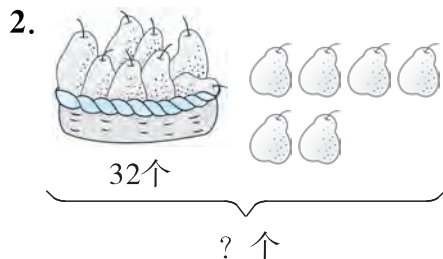
$85-30=$

$25+3=$

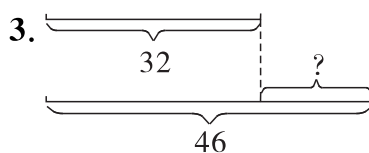
五、看图列式计算。(6 分)



$\square \bigcirc \square = \square$



$\square \bigcirc \square = \square (\text{个})$



$\square \bigcirc \square = \square$

六、解决问题。(24 分)



我们折了多少个风车?

$\square \bigcirc \square = \square (\quad)$



回去了多少人?


$\square \bigcirc \square = \square (\quad)$



再买几个篮球就够了?

$\square \bigcirc \square = \square (\quad)$

4. 文具店。



(1) 文具盒和铅笔共多少个?

$\square \bigcirc \square = \square (\quad)$

(2) 练习本比铅笔多多少个?

$\square \bigcirc \square = \square (\quad)$

(3) _____

$\square \bigcirc \square = \square (\quad)$

第四单元自测卷

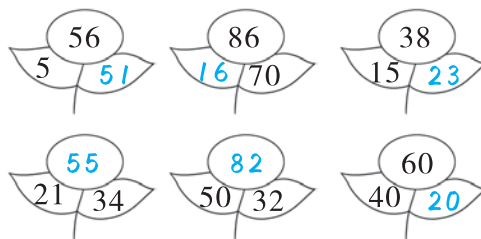
(时间:40 分钟 满分:100 分)

一、填一填。(33 分)

- 26 与 13 两数的和是(39),差是(13)。
- 48 比 35 多(13),14 比 37 少(23)。
- 20 添上(25)就和 45 一样多。
- 两个数都是 50,它们的和是(100),差是(0)。
- △△△△△△△△△△△△△
○○○○○○○○
△比○多(4)个,○比△少(4)个,从△里拿走(4)个就跟○一样多,从△里拿(2)个摆到○里,△就跟○一样多。
- 今晚的数学作业有 10 道题,英英已经做了 6 题,她再从第(7)题做起。
- 在○里填“>”“<”或“=”。

$$\begin{aligned} 45-3 &> 45-30 & 56+20 &< 80 \\ 35+20 &= 25+30 & 60 &< 66-5 \\ 52+4 &< 52+40 & 3+34 &> 34-3 \\ 35-15 &> 35-20 & 56-15 &> 45-15 \end{aligned}$$

8. 找规律填数。



9. 在□里填数。

$$\begin{aligned} \boxed{33}+20 &= 53 & 68-\boxed{33} &= 35 \\ \boxed{8}+3 &= 6+\boxed{5} & \boxed{76}-24 &= 52 \\ (答案不唯一) \\ 24 &= 56-\boxed{32} & 53+\boxed{6} &= 55+4 \end{aligned}$$

二、选一选。(10 分)

- 有 23 个苹果,34 个梨,_____?
(③)。
- 橘子有多少个?
②苹果比梨多多少个?
③苹果比梨少多少个?
- 下面各算式中,得数比 50 大的是(③)。
①35+2 ②24+20 ③65-12
- 21+()<55,(①)里可以填几?
①33 ②34 ③35
- 小英上车了,看到车上有 26 人,现在车上有(③)人。

家长签字:

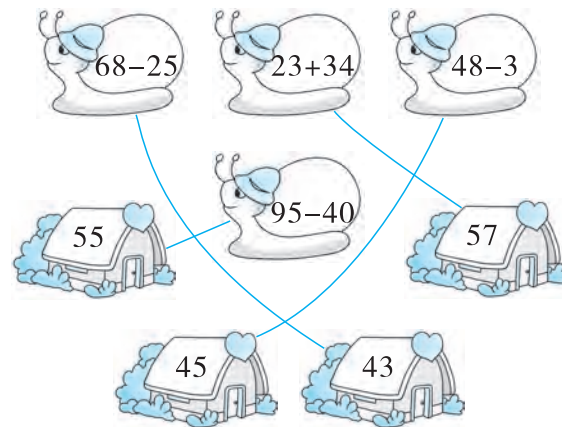
教师评语:

①25 ②26 ③27

5. 下面算式的得数是四十多的是(①)。

①65-20 ②32+21 ③65-2

三、蜗牛(wō)牛回家。(连一连)(4 分)



四、算一算。(共 23 分)

1. 直接写出得数。(5 分)

| | |
|-------------|-------------|
| 50+30= 80 | 20+40= 60 |
| 52-20= 32 | 5+40-30= 15 |
| 36-4= 32 | 33+40= 73 |
| 55-30-3= 22 | 12+24= 36 |
| 23+21= 44 | 58-20-6= 32 |

2. 森林医生。(对的画“√”,错的画“×”,并改正)(6分)

| | | |
|---|--|--|
| $\begin{array}{r} 57 \\ -32 \\ \hline 89 \end{array}$ | $\begin{array}{r} 46 \\ -2 \\ \hline 26 \end{array}$ | $\begin{array}{r} 35 \\ 24 \\ \hline 11 \end{array}$ |
| × | × | × |

| | | |
|---|--|---|
| $\begin{array}{r} 57 \\ -32 \\ \hline 25 \end{array}$ | $\begin{array}{r} 46 \\ -2 \\ \hline 44 \end{array}$ | $\begin{array}{r} 35 \\ -24 \\ \hline 11 \end{array}$ |
|---|--|---|

3. 列竖式计算。(12分)

$34 + 25 = 59$

$$\begin{array}{r} 34 \\ +25 \\ \hline 59 \end{array}$$

$46 - 21 = 25$

$$\begin{array}{r} 46 \\ -21 \\ \hline 25 \end{array}$$

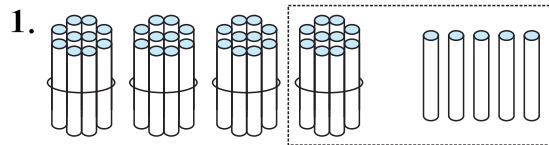
$85 - 30 = 55$

$$\begin{array}{r} 85 \\ -30 \\ \hline 55 \end{array}$$

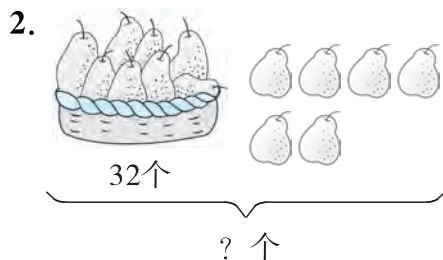
$25 + 3 = 28$

$$\begin{array}{r} 25 \\ +3 \\ \hline 28 \end{array}$$

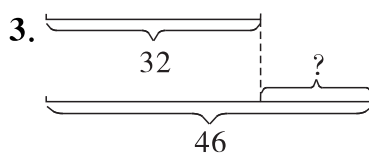
- 五、看图列式计算。(6分)



$$45 - 15 = 30$$



$$32 + 6 = 38 \text{ (个)}$$



$$46 - 32 = 14$$

六、解决问题。(24分)



我们折了多少个风车?

$$35 + 13 = 48 \text{ (个)}$$



回去了多少人?


$$28 - 8 = 20 \text{ (人)}$$



再买几个篮球就够了?

$$28 - 7 = 21 \text{ (个)}$$

4. 文具店。



(1) 文具盒和铅笔共多少个?

$$20 + 32 = 52 \text{ (个)}$$

(2) 练习本比铅笔多多少个?

$$56 - 32 = 24 \text{ (个)}$$

(3) 文具盒比铅笔少几个(答案不唯一)?

$$32 - 20 = 12 \text{ (个)}$$